



鎌倉時代

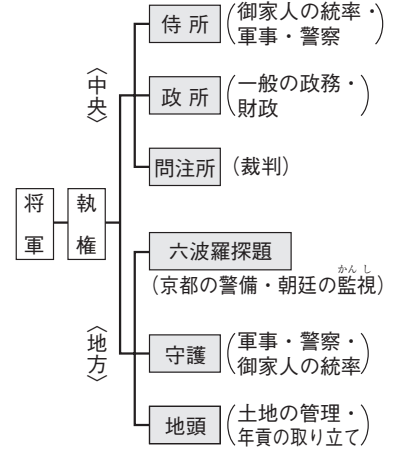
年 組 番 ID :
氏名

鎌倉幕府

- 鎌倉幕府…本格的な武士による政権の始まり。
⇒1185年、源頼朝が国ごとに守護、荘園や公領ごとに地頭をおく。
⇒1192年、源頼朝が征夷大將軍に任命される。

鎌倉幕府のしくみ

- ⇒將軍と御家人の關係は、御恩と奉公。
⇒將軍の補佐役には執權、ほかには侍所、政所、問注所など。



鎌倉幕府のしくみ

執權政治

- 執權政治
⇒頼朝の死後、源氏の直系は3代でとだえる。
⇒執權に就いていた北条氏が実権を握るようになる。

承久の乱

- 承久の乱…乱の後、幕府は西日本への支配を固める。
⇒1221年、後鳥羽上皇が兵を挙げる。
⇒戦いに勝った幕府は後鳥羽上皇を隠岐(島根県)に流し、京都に六波羅探題をおく。

御成敗式目(貞永式目)

- 御成敗式目(貞永式目)…武士の法律の見本。
⇒1232年、当時の執權の北条泰時によって定められる。
⇒裁判を公平に行うための基準を示す。

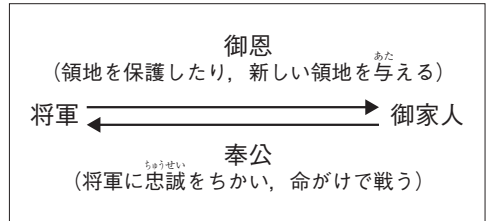
鎌倉時代の暮らし

● 農民の暮らし

- ・ 二毛作が行われる。
- ・ 農作業で牛や馬が利用される。
- ・ 草や木を焼いた灰が肥料として使われる。
- ・ 地頭と荘園領主の二重支配に苦しむ。
- ・ 定期市が開かれる。

● 武士の暮らし

- ・ 戦いがないときは、武芸のけいこを行う。
- ・ 領地は分割相続。
- ・ 女性の地頭もいる。



御恩と奉公

- 一 武士が20年の間、実際に土地を支配しているならば、その権利を認める。
- 一 女性が養子をとることは、律令では許されていないが、…子どものない女性が土地を養子にゆずり与える事例は、武士の慣習として数え切れない。

(一部要約)

御成敗式目(貞永式目)



<h2>鎌倉時代</h2>	年 組 番 ID : 氏名
---------------	----------------------

〈鎌倉文化〉

●鎌倉文化…貴族の文化をもとにした、武士の気風に合った力強い文化。

- 東大寺南大門金剛力士像⇒運慶らによる彫刻作品
- 主な作品⇒藤原定家らによって編さんされた「新古今和歌集」
- 兼好法師〔吉田兼好〕の「徒然草」
- 鴨長明の「方丈記」
- 琵琶法師の語りによる「平家物語」

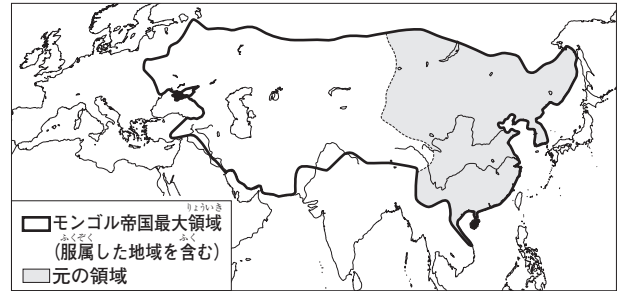
宗派		開祖
浄土宗		法然
浄土真宗〔一向宗〕		親鸞
時宗		一遍
日蓮宗〔法華宗〕		日蓮
禅宗	臨済宗	栄西
	曹洞宗	道元

●新しい仏教…わかりやすく、実行しやすいものが多かった。

〈元軍の襲来と鎌倉幕府のおとろえ〉

- モンゴル帝国…13世紀の初めにチンギス＝ハンが建国。
- ⇒ユーラシア大陸の東西にまたがる大帝國。
- ⇒フビライ＝ハンが国号を元と定める。

- 元軍の二度の襲来
- ⇒執権の北条時宗が元の使者を無視。
- ⇒1274年(文永の役)と1281年(弘安の役)に元軍が九州北部に襲来(元寇)。
- ⇒幕府が築いた石垣〔防塁〕や暴風雨などで元軍が撤退。



鎌倉時代の新しい仏教

13世紀ごろの世界

- 鎌倉幕府のおとろえ
- ⇒元寇のあと、御家人の生活が苦しくなる。
- ⇒幕府は御家人の借金を帳消しにできる(永仁の)徳政令を出す、あまり効果がなかった。
- ⇒後醍醐天皇が足利尊氏などと協力し、幕府を倒す。

【確認問題】

次の問いに答えなさい。

- 1185年に全国に守護と地頭をおき、鎌倉幕府を開いた人物はだれか。
- 将軍が、御家人の土地を守ったり、御家人に新しい土地を与えたりすることを何というか。
- 鎌倉時代に琵琶法師によって語り伝えられた、武士の戦いの様子を記した軍記物を何というか。
- 1274年と1281年に九州北部に襲来した中国の王朝を何というか。
- 鎌倉幕府が出した、御家人の借金を帳消しにする法令を何というか。

【解答】

- (1) 源頼朝 (2) 御恩 (3) 平家物語 (4) 元 (5) (永仁の)徳政令



鎌倉時代	年 組 番 ID :	
	氏名	/ 9問

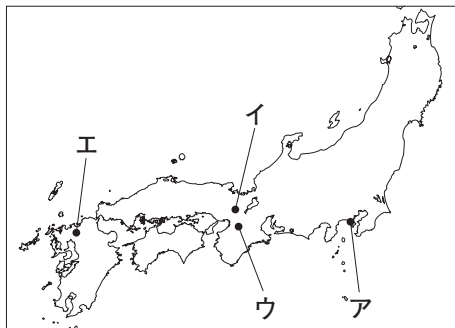
次の年表を見て、あとの問いに答えなさい。

年代	できごと
1185	国ごとに(①), 荘園や公領ごとに(②)がおかれる
1192	源頼朝が征夷大將軍に任命される A
1221	承久の乱が起こる B
1232	北条泰時が、裁判の基準を示す(③)を定める
1274	文永の役が起こる } C
1281	弘安の役が起こる }

(1)	①	
	②	
	③	
(2)	①	
	②	
(3)	①	
	②	
(4)		
(5)		

- (1) 年表中の(①)~(③)にあてはまる語句をそれぞれ答えなさい。
 (2) 年表中のAについて、次の問いに答えなさい。

① 源頼朝が開いた鎌倉幕府の場所を右の地図中のア~エから選び、記号で答えなさい。



② 將軍の補佐役としてあてはまるものを次から選び、記号で答えなさい。

- ア 攝政 せつしやう イ 関白 かんぱく
 ウ 執権 しつけん エ 太政大臣 たいていだいじん

- (3) 年表中のBについて、次の問いに答えなさい。

① 承久の乱が起こったきっかけとなった、兵を挙げた人物を次から選び、記号で答えなさい。

- ア 桓武天皇 かんむ イ 後鳥羽上皇 ごしらかわ ウ 後白河上皇 ごしらかわ エ 天武天皇 てんむ

② 承久の乱のあと、鎌倉幕府が朝廷を監視するためにおいた役所を次から選び、記号で答えなさい。

- ア 侍所 せうじよ イ 政所 せいじよ ウ 問注所 もんしゆじよ エ 六波羅探題 むつばらたんてい

- (4) 年表中のCについて、日本の九州北部に2度襲来した中国の王朝を次から選び、記号で答えなさい。

- ア 唐 たう イ 隋 ずい ウ 元 げん エ 宋(南宋) そうなんそう

- (5) 年表中の鎌倉時代に、兼好法師(吉田兼好)が著した随筆集を何というか。



<h2 style="margin: 0;">鎌倉時代</h2>	年 組 番 ID :	
	氏名	/ 10問

次の年表を見て、あとの問いに答えなさい。

年代	できごと
1185	(X)が全国各地に① <u>守護</u> と② <u>地頭</u> をおく
1192	(X)が征夷大將軍に任命される…………… A
1221	後鳥羽上皇が兵を挙げる…………… B
1232	御成敗式目(貞永式目)が定められる…………… C
1274	文永の役が起こる } …………… D
1281	弘安の役が起こる }

(1)		
	a	
(2)		
	b	
(3)		
(4)		
(5)		
(6)		
(7)		

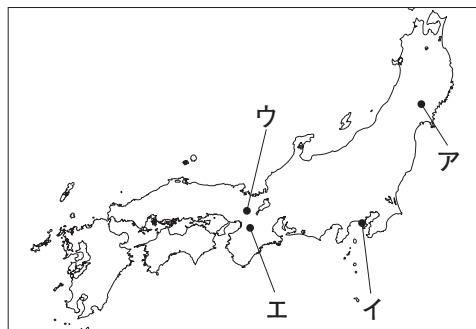
(1) 年表中のXにあてはまる人物を次から選び、記号で答えなさい。

ア 平清盛 ひらのきよもり イ 源義経 よしのね ウ 源頼朝 エ 平将門 まさかど

(2) 年表中の下線部①と下線部②の役職について述べたものを次から2つずつ選び、記号で答えなさい。

- ア 莊園や公領ごとにおかれた。
- イ 軍事や警察，御家人の統率を行った。
- ウ 国ごとにおかれた。
- エ 年貢の取り立てを行った。

(3) 年表中のAについて、Xの人物が開いた幕府の場所を、右の地図中のア～エから選び、記号で答えなさい。



(4) 年表中のBについて、このできごとがきっかけで起こった戦いを何というか。

(5) 年表中のCについて、御成敗式目(貞永式目)を定めた人物を次から選び、記号で答えなさい。

ア 北条時政 ときまさ イ 北条時宗 ウ 北条義時 よしのとき エ 北条泰時

(6) 年表中のDについて、日本の九州北部に2度襲来した中国の王朝を次から選び、記号で答えなさい。

ア 殷 いん イ 隋 ウ 漢(後漢) かん ごかん エ 元

(7) 年表中の鎌倉時代に、藤原定家らが編さんした和歌集を何というか。

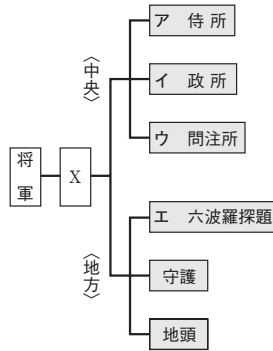
(2)①②順不同可



<h2 style="margin: 0;">鎌倉時代</h2>	年 組 番 ID :	
	氏名	/ 12問

次の問いに答えなさい。

(1) 右の図中のXにあてはまる役職を何というか、漢字2字で答えなさい。



(2) 次の①～④にあてはまる役割を、図中のア～エから1つずつ選び、記号で答えなさい。

- ① 裁判を行う。
- ② 御家人の統率や軍事，警察。
- ③ 朝廷を監視する。
- ④ 一般の政務・財政。

(3) 1232年に定められた御成敗式目(貞永式目)について、次の問いに答えなさい。

- ① 御成敗式目を定めた人物を次から選び、記号で答えなさい。
 ア 北条時政 ときまさ イ 北条泰時 ウ 北条時宗 エ 北条義時 よしとき
- ② 御成敗式目について正しく述べたものを次から選び、記号で答えなさい。
 ア 仏教や儒教 じゆきやう の考え方を取り入れ、役人の心得を示した。
 イ 新たに開墾 かいこん した土地の私有を認めた。
 ウ 唐 りつりやう の律令にならって定められた。
 エ 裁判を公平に行うための基準を示した。

(4) 1274年と1281年に、中国の王朝が2度にわたって日本に攻めてきたできごとについて、次の問いに答えなさい。

- ① この2度にわたって日本に攻めてきたできごとを何というか。
- ② このときの中国の王朝の皇帝を次から選び、記号で答えなさい。
 ア チンギス=ハン イ ムハンマド
 ウ フビライ=ハン エ シャカ

(5) 鎌倉時代の農村の様子についてあてはまらないものを次から1つ選び、記号で答えなさい。

- ア 二毛作が行われていた。
- イ 地頭と荘園領主の二重支配に苦しんでいた。
- ウ 農作業で牛や馬が利用された。
- エ 6歳以上の人々に口分田が与えられた。

(6) 鎌倉時代の仏教について、次の文章中の(①), (②)にあてはまる仏教の宗派を答えなさい。

鎌倉時代には、わかりやすく、実行しやすい新しい仏教の宗派が広まった。そのなかには、親鸞 しんらん によって広められた(①)や、「南無妙法蓮華經 なむみょうほうれんげきやう」という題目 だいもく を唱えれば人や国は救われると説いた(②)などがあつた。

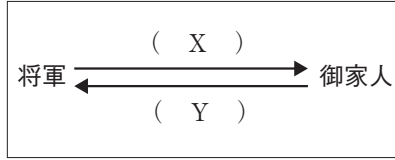
(1)		
(2)	①	
	②	
	③	
	④	
(3)	①	
	②	
(4)	①	
	②	
(5)		
(6)	①	
	②	



鎌倉時代	年 組 番 ID :	
	氏名	/ 8問

次の問いに答えなさい。

- (1) 右の図は、鎌倉幕府の将軍と御家人の関係を示している。図中のX, Yにあてはまる語句を何というか、それぞれ漢字2字で答えなさい。



- (2) 鎌倉幕府で、一般の政務や財政に関する役所を次から選び、記号で答えなさい。

ア 守護 イ 侍所 ウ 政所 エ 問注所

- (3) 1221年に起こった承久の乱についてあてはまらないものを次から1つ選び、記号で答えなさい。

- ア 後鳥羽上皇が兵を挙げたことがきっかけで起こった。
 イ この乱のあと、幕府の支配は西日本に広がった。
 ウ 御家人たちは、源頼朝の妻である北条政子の訴えで団結した。
 エ この乱のあと、朝廷を監視するために京都に大宰府がおかれた。

- (4) 1232年に定められた、御成敗式目〔貞永式目〕について、次の問いに答えなさい。

- ① 御成敗式目を定めた人物を漢字4字で答えなさい。
 ② 御成敗式目についてあてはまらないものを次から1つ選び、記号で答えなさい。
 ア その後のさまざまな武士の法律の見本とされた。
 イ 武士の慣習に基づいて定められた。
 ウ 仏教や儒教の考え方を取り入れ、役人の心構えを示した。
 エ 裁判を公平に行うための基準を示した。

- (5) 1274年と1281年に中国の王朝が2回にわたって日本に攻めてきた元寇について正しいものを次から選び、記号で答えなさい。

- ア 当時の元の皇帝は、チンギス=ハンであった。
 イ 元軍の襲来は、2回とも日本の中国地方を襲った。
 ウ 当時の幕府の執権は、北条時政であった。
 エ 2回目の元軍の襲来の前に、幕府は海岸に石垣(防塁)をつくった。

- (6) 鎌倉時代の仏教について、次の文章中の()にあてはまる人物を、あとのア～エから選び、記号で答えなさい。

鎌倉時代には、わかりやすく、実行しやすい新しい仏教の宗派が広まった。そのなかには、()によって広められた浄土真宗〔一向宗〕などがあった。

ア 法然 イ 親鸞 ウ 日蓮 エ 一遍

(1)	X	
	Y	
(2)		
(3)		
(4)	①	
	②	
(5)		
(6)		



鎌倉時代	年 組 番 ID :	
	氏名	/ 10問

1 次の文章を読んで、あとの問いに答えなさい。

1185年に平氏をほろぼした(①)は、弟の源義経^{よしつね}を捕らえることを口実に、国ごとに守護、莊園や公領ごとに地頭をおくことを朝廷に認めさせた。また、1192年には征夷大將軍に任命され、鎌倉に幕府を開いた。

將軍と^㉑將軍の家来は(②)と(③)で結ばれており、(②)は家来の領地を保護したり、新しい領地を与えたりすることである。(③)は、戦いが起こったときには命をかけて將軍のために戦うことである。

その後源氏の將軍が3代でとだえると、^㉒北条氏による執権政治が行われ、鎌倉幕府は14世紀前半まで続いた。

- (1) 文章中の①～③にあてはまる語句や人物名を答えなさい。
- (2) 文章中の下線部^㉑を何というか、漢字3字で答えなさい。
- (3) 下線部^㉒について、次の問いに答えなさい。

① 下線部^㉒のころには、右の御成敗式目(貞永式目)という法律が定められた。この法律はどのような法律か、「裁判」という語句を使って、簡単に説明しなさい。

一 武士が20年の間、実際に土地を支配しているならば、その権利を認める。
(一部要約)

② 下線部^㉒のころに起こったできごとを次から選び、記号で答えなさい。

- ア ^{ほうげん}保元の乱がおこる イ ^{えいにん}(永仁の)徳政令が出される
ウ ^{へいじ}平治の乱がおこる エ ^{けんとうし}遣唐使が停止される

2 鎌倉時代の暮らしや文化について、次の問いに答えなさい。

(1) 鎌倉時代の農村で行われていた、同じ田や畑で1年のうちに米や麦を交互につくることを何というか。

(2) 右の資料は、鎌倉時代に琵琶法師によって語られた軍記物である。これを何というか。

^ぎ祇園精舎の鐘の聲、^{しよぎやうむじやう}諸行無常の響きあり。^{しやらそうじゆ}娑羅双樹の花の色、^{じやうしゃひつ}盛者必衰のこゝろをあらわす。おごれる人も久しからず… (一部要約)

(3) 鎌倉時代の文化にあてはまらないものを次から1つ選び、記号で答えなさい。

- ア 東大寺南大門金剛力士像 イ 新古今和歌集
ウ 徒然草 エ 正倉院

(4) 鎌倉時代に広まった仏教の宗派と広めた人物の組み合わせとして正しいものを次から選び、記号で答えなさい。

- ア 栄西…禅宗 イ 日蓮…時宗
ウ 一遍…浄土真宗(一向宗) エ 親鸞…浄土宗

1

(1)	①	
	②	
	③	
(2)		
(3)	①	
	②	

2

(1)	
(2)	
(3)	
(4)	



<h2 style="margin: 0;">鎌倉時代</h2>	年 組 番 ID :	
	氏名	/ 11問

1 次のA～Cの文を読んで、あとの問いに答えなさい。

A 1185年に平氏をほろぼした(①)は、その後鎌倉幕府を開いた。

B 源氏の将軍が3代でとだえると、北条氏が政治の実権を握った。

C 元寇のあと、借金に苦しんでいた御家人を助けようと、幕府は(②)を出したが、あまり効果はみられず、幕府に対する不満が高まった。

(1) 文章中の(①), (②)にあてはまる語句や人物名を答えなさい。

(2) Aについて、次の問いに答えなさい。

- ① 鎌倉幕府の将軍の家来である武士を何というか。
- ② 将軍が①に対して領地を保護したり、新しい領地を与えたりすることを何というか。

(3) Bについて、この政治を何というか、漢字4字で答えなさい。

(4) (3)の政治が行われているころには、右の資料のような裁判の基準を示す法律が定められた。これを何というか。

一 女性が養子をとることは、律令では許されていないが、…子どものない女性が土地を養子にゆずり与える事例は、武士の慣習として数え切れない。(一部要約)

(5) (3)の政治が行われているころに起こったできごとを次から選び、記号で答えなさい。

- | | |
|--|---|
| ア <small>ふじわらのすみとも</small> 藤原純友の乱が起こる
ウ <small>だんのうら</small> 壇ノ浦の戦いが起こる | イ <small>たいしやましかど</small> 平将門の乱が起こる
エ 元寇が起こる |
|--|---|

2 鎌倉時代の暮らしや文化について、次の問いに答えなさい。

(1) 鎌倉時代に交通の便利なところや寺社の門前に、毎月決められた日に開かれた市を何というか。

(2) 鎌倉時代に著された書物にあてはまらないものを次から1つ選び、記号で答えなさい。

- ア まくらそうし 枕草子 イ 方丈記 ウ 徒然草 エ 平家物語

(3) 座禅によって自分の力で悟りを開こうとする禅宗を伝えた人物を次から2つ選び、記号で答えなさい。

- ア 栄西 イ 日蓮 ウ 親鸞 エ 道元

1

(1)	①	
	②	
(2)	①	
	②	
(3)		
(4)		
(5)		

2

(1)	
(2)	
(3)	

(3)順不同可